

Всероссийская олимпиада школьников по географии

2024–2025 учебный год

Школьный этап

9 класс

БЛАНК ОТВЕТОВ

ШИФР Г45021

118

895

[Handwritten signature]

Тестовый тур.
Максимум – 20 балла.

№ вопроса	1	2	3	4	5	6	7	8	9	10	11	12	13	14	15	16	17	18	19	20
Ответ	a	d	d	z	2	2	a	b	2	a	a	z	z	2	5	0	7	9	2	03

Теоретический тур.
Максимум – 80 баллов.

Задание 1.

Венеция	Географический объект <u>Санкт-Петербург</u> 20
	Субъект РФ <u>Иркутская область</u>
Йеллоустонский парк	Географический объект <u>Гора Пикора</u>
	Субъект РФ <u>Красноярский край</u>
Танганьика	Географический объект <u>Байкал</u> 20
	Субъект РФ <u>Иркутская область</u>
Деревня Санта-Клауса	Географический объект <u>деревня Санта-Клауса</u> 45
	Субъект РФ <u>Новосибирская область</u>
Мёртвое море	Географический объект <u>Каспийское море</u> 20
	Субъект РФ <u>Астраханская область</u> 20

Задание 2.

Область (X) Иркутская область
 Географический объект (Y) Байкал
 Животное изображенное на гербе белый медведь

Задание 3.

1	<u>Валдай, мажорский</u> Республика Карелия
2	<u>Кижский полог</u>
3	<u>Рускеальские водопады</u>

Задание 4.

20

Название реки

Лема 2

Субъект России

Якутия 2

Озеро

Хан Сайган 2

Море

море Лаптевых 2

Природный парк

Ломские столбы 2

Падение реки (м) =

7470 м 5

Уклон реки (см/км) =

~~0,33 м~~ 33,4 м/км 5

Задание 5.

108

1 58	<p>Ошибка <u>Прогнозируемый край расположен в европейской части России</u></p> <p>Правильный ответ <u>Он находится в азиатской части России</u></p>
2 5	<p>Ошибка <u>только Карским морем</u></p> <p>Правильный ответ <u>морем Лаптевых и Карским</u></p>
3	<p>Ошибка _____</p> <p>Правильный ответ _____</p>
4	<p>Ошибка _____</p> <p>Правильный ответ _____</p>
5	<p>Ошибка _____</p> <p>Правильный ответ _____</p>


Чем ты, моя (X) земля.

Горжусь я тем, что родилась в Сибири,
Богатств природных тут не перечесть.
Вампилов и Распутин в своих книгах
Земле (X) отдавали честь.
Бурят и русский тут давно сроднились,
Легенды их давно переплелись.
Народы братские объединились,
И песни новые из сердца полились.

Цвети, моя Сибирь, и процветай, Россия,
(Y) священный, чистым будь всегда.
Красивей на земле нет места,
Чем ты, моя (X) земля.

Ответьте на вопросы:

1. Как называется эта область, спрятанная под буквой X?
2. Какой уникальный географический объект частично расположен на территории данной области и отмечен буквой Y?



Геральдическое описание герба областного центра гласит: «В серебряном поле черный бабр с червлеными глазами, держащий в пасти червленого соболя...»

3. Какое животное изображено на гербе областного центра, именуемое «Бабром».

17. Циклоны – это:

а) Воздушные массы, благодаря которым устанавливается сухая и безветренная погода

- б) Вихри с низким атмосферным давлением в центре
в) Вихри с высоким атмосферным давлением в центре
г) Горизонтальное движение воздуха, отличающиеся давлением, влажностью и температурой

18. Самым западным из городов является:

- а) Якутск б) Магадан в) Сургут г) Братск

19. В районе Черапунджи находится:

- а) Самое холодное место на Земле
б) Самое жаркое место на Земле
в) Самое сухое место на Земле
г) Самое влажное место на Земле

20. Установите соответствие между материком и географическим объектом.

Материк

1. Евразия
2. Австралия
3. Южная Америка
4. Африка

Географический объект

- 3 А) Большая пустыня Виктория
- 4 Б) г. Чимборасо
- 2 В) Каракумы
- 1 Г) Капские горы

Теоретический тур. Максимум –80 баллов

Задание 1. Назовите российские «туристические» аналоги, и в каких субъектах Российской Федерации они расположены: Венеция, Йеллоустонский парк, Танганьика, деревня Санта-Клауса, Мёртвое море.

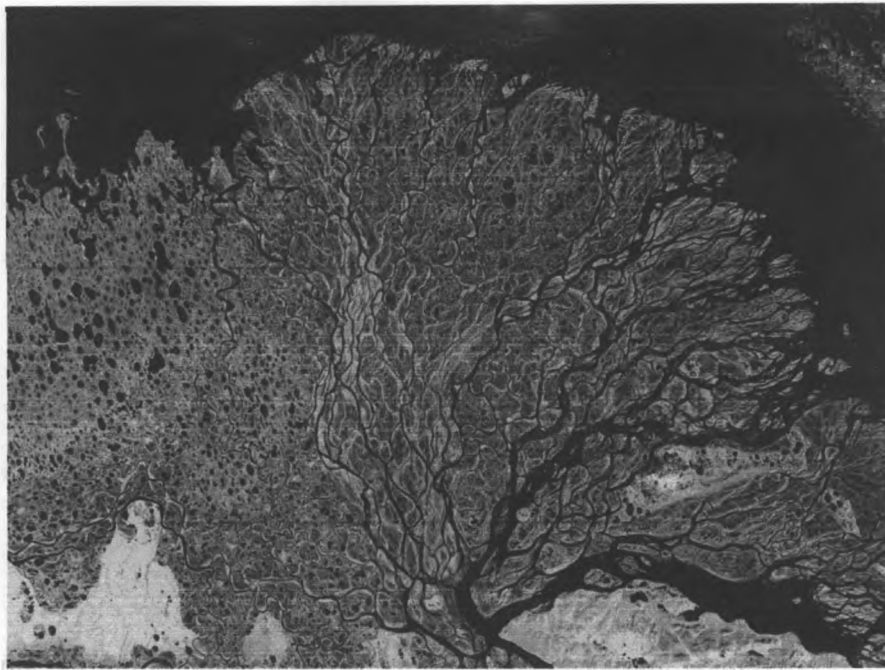
Задание 2. Внимательно прочитайте текст гимна одной из областей России.

Выполните задание 1, 2, 3.

Мой край сибирский, овеванный легендами,
Ты много видел на своём пути.
Здесь мои предки кочевали с юртами,
И Родины мне лучше не найти.
Здесь был Ермак и декабристы в ссылке;
Своих сынов Сибирь стране дала,
В войну сибиряки себя не посрамили:
Фашизм был изгнан из России навсегда.

Цвети, моя Сибирь, и процветай, Россия,
(У) священный, чистым будь всегда.
Красивей на земле нет места,





Задание 5. Найдите ошибки в тексте и исправьте их.

Красноярский край расположен в Европейской части Российской Федерации и занимает центральное географическое положение в стране с координатами $51^{\circ} 48'$ и $77^{\circ} 41'$ северной широты. На севере Красноярский край омывается водами Северного Ледовитого океана, только Карским морем. Мыс Челюскина – крайняя полярная оконечность Евразии и самая северная точка России и материковых частей планеты. На юге границей Красноярского края служат горы Алтая, Восточного Саяна и Кузнецкого Алатау. На востоке граница нашего края идёт по Средне-Сибирскому плоскогорью. За рубежом южным пределам края соответствуют широты Варшавы, Лондона, центральных районов Канады. Протяженность с севера на юг около 3000 км. С запада на восток его протяженность в северной части 1250 км, вдоль Байкало-амурской железнодорожной магистрали – 650 км. На территории края в окрестностях озера Виви расположен географический центр Евразии.

Задание 3. Рассмотрите фотографии, прочитайте текст и ответьте на вопросы.



Эта республика привлекает не только удивительной природой, но и уникальным архитектурным памятником, который включен в список Всемирного наследия ЮНЕСКО. По своей территории, которая сопоставима с Грецией или Болгарией, она занимает пятое место среди республик Российской Федерации. В четвертичном периоде огромное влияние на рельеф оказал ледник, пришедший с северо-востока. На территории «тысяча озер» и известный равнинный водопад, который не перестает течь даже зимой.

- 1) Назовите республику и ее административный центр?
- 2) Какой архитектурный памятник изображен на фотографии, расположенный в данном субъекте?
- 3) Как называется самый знаменитый водопад этой республики?

Задание 4. Прочитайте текст и ответьте на вопросы.

Это устье одной из крупнейших рек России. Длина этой реки составляет 4400 км. Протекает по территории крупного субъекта России. Берет начало на высоте 1470 м на хребте названном в честь озера, на побережье которого он находится. Впадает в одно из морей Северного Ледовитого океана. Водный режим характеризуется высоким весенне-летним половодьем, обусловленным таянием снегов. Ледостав продолжается с октября по май. Часто во время ледохода на реке образуются заторы, которые приводят к наводнениям. По течению сохранилась уникальная природа. В среднем течении — природный парк, который включён в Список объектов Всемирного наследия ЮНЕСКО.

Назовите эти объекты. Вычислите падение и уклон реки (значение уклона реки округлите до десятых).

г) Мурманская область

9. Выберите верное соответствие: территория – тип климата.

- а) п-ов Камчатка – умеренный муссонный
- б) Тиманский кряж – умеренный умеренно-континентальный
- в) о-ва Северная Земля – субарктический
- г) Приленское плато – умеренный морской

10. Какой заповедник в России является самым старым?

- а) Баргузинский заповедник
- б) Тебердинский заповедник
- в) Кандалакшский заповедник
- г) Кроноцкой заповедник

11. Выберите верное соответствие: река – приток.

- а) Лена – Индигирка
- б) Хатанга – Котуй
- в) Печёра – Вычегда
- г) Обь – Таз

12. Выберите верное утверждение о народах, проживающих на территории России

- а) У Калмыков основной религией является ислам
- б) Чукчи занимаются пашенным земледелием и резьбой по кости морского зверя
- в) У чувашей основной промысел - охота на оленей
- г) Буряты проживают на юге Сибири

13. Найдите ошибку в списке угольных бассейнов России:

- а) Тунгусский
- б) Канско-Ачинский
- в) Ленский
- г) Самотлор

14. Установите соответствие между полезным ископаемым и районом добычи:

Полезное ископаемое	Район добычи
1. Железная руда	1 А) Печорский бассейн
2. Бурый уголь	2 Б) КМА
3. Медно-никелевые руды	3 В) Подмосковский
4. Каменный уголь	4 Г) Талнахское месторождение

15. Какой признак из перечисленных характеризует миграции населения:

- а) В России, так же, как и в мире, городской образ жизни получает все большее распространение.
- б) Количество людей, въезжающих в Россию на постоянное место жительства из других государств, постоянно увеличивается.
- в) Западная и центральная части Европейской России наиболее плотно заселены и урбанизированы.
- г) В России в течение 2010 г. родилось 1 713 947 человек, умерло – 2 075 954 человека.

16. На какой из перечисленных параллелей продолжительность дня 22 декабря наибольшая?

- а) 50° с.ш. б) 70° ю.ш. в) 60° ю.ш. г) 75° с.ш

Всероссийская олимпиада школьников по географии

Школьный этап

9 класс

ЗАДАНИЯ

Тестовый тур. Максимум – 20 баллов.

1. Объектами изучения какой науки являются курумы и балки?

- а) Геоморфология
- б) Климатология
- в) Гляциология
- г) Экология

2. Выберите правильное утверждение о материке, на котором располагается самый высокий водопад на Земле:

- а) На севере этот материк пересекает экватор
- б) Побережье омывают 3 океана
- в) Отдален от всех материков островами, расположенными в двух океанах
- г) Был открыт русскими мореплавателями в начале 19 века.

3. Выберите правильное утверждение о материке, на котором располагается самый большой полуостров на Земле:

- а) Большая часть материка покрыта пустынями
- б) Целиком расположен в северном полушарии
- в) Пересекается всеми меридианами
- г) Материк расположен в пределах одной части света.

4. В какой горной системе количество высотных поясов будет больше:

- а) Алтай
- б) Хибины
- в) Уральские
- г) Скандинавские горы

5. Николай Николаевич Дроздов известен своими исследованиями в области

- а) метеорологии
- б) политологии
- в) биогеографии
- г) тектоники

6. Укажите государства, с которыми Россия имеет наиболее протяженную сухопутную границу:

- а) Литва и Польша
- б) КНДР и Норвегия
- в) Грузия и Азербайджан
- г) Казахстан и Китай

7. Выберите вариант, в котором все перечисленные объекты береговой линии России относятся к одному океану.

- а) П-ов Канин, море Лаптевых, м. Челюскин, о-ва Медвежьи
- б) Охотское море, Командорские о-ва, Ботнический залив, о. Большевик
- в) Каспийское море, Азовское море, п-ов Крым, пр. Маточкин Шар
- г) Белое море, Обская губа, Шантарские о-ва, Чукотский п-ов

8. В пределах какого субъекта РФ на поверхность выходят участки фундамента древних платформ?

- а) Омская область
- б) Пермский край
- в) Краснодарский край

ВСЕРОССИЙСКАЯ ОЛИМПИАДА ШКОЛЬНИКОВ ПО ГЕОГРАФИИ
В 2024 – 2025 УЧЕБНОМ ГОДУ
ШКОЛЬНЫЙ ЭТАП
7 КЛАСС

БЛАНК ОТВЕТОВ

Фамилия _____

Имя _____

Г 46009

225 54,3%

Ответы заданий для 7 класса.

Тестовый тур.

За каждый правильный ответ – 1 балл.

Максимальный балл – 15.

№ теста	Ответ	Баллы
1	2	15
2	1	15
3	2	05
4	3	15
5	2	05
6	1	15
7	3	15
8	3	0
9	2	0
10	3	1
11	4	0
12	4	0
13	3	1
14	2	1
15	2	1





1. За ответ 0,5 балла. (max. - 5 баллов)

ПРИБОР	ХАРАКТЕРИСТИКА ЯВЛЕНИЯ. (измеряемая прибором)	Единица измерения, которой характеризуются, измеряемая прибором величина
Флюгер		направление ветра +
Барометр	прибор для измерения атмосферного давления +	
Гигрометр	прибор для измерения относительной влажности воздуха +	
Осадкомер	прибор для измерения количества осадков +	
Термометр	прибор для измерения температуры воздуха +	градусы +

2. Оценивается каждая правильная часть гидросферы (по 0,5 балла)

3. Определите и запишите в бланке ответов, какому изображению холма горизонталями соответствует вид холма.

За каждую пару 1 балл (max. - 5 баллов).

1	2	3	4	5
B				

4. Какие из ниже перечисленных географических объектов находятся на указанных материках?

Запишите в бланке ответов их номера рядом с названием материка.

За каждый правильный ответ 0,5 баллов (max. - 5 баллов).

Материк	Австралия	Африка	Евразия	Северная Америка	Южная Америка
ОТВЕТ	4, 6	7, 10	3	2, 8	5

5. На приведенных рисунках вы видите изображения стран и рисунки, характеризующие эти страны. В бланке ответов задания заполните таблицу:

- 1) Объект – название страны
- 2) Рисунок – номер рисунка, поясняющую подпись, что (или кто) на изображении
- 3) Пояснение – почему вы так сделали, образовав осмысленную пару «страна – рисунок»

ОБЪЕКТ	РИСУНОК	ПОЯСНЕНИЕ
Африка	A 3	
Австралия	B 1	
Италия	B 2	

Олимпиада по географии
школьный этап 2024 – 2025 уч. год
Задания для 7 класса.

Тестовый тур.

Правильный ответ оценивается в 1 балл. 95

1. Какие части света знали во времена Птолемея (II в. н. э.)?
- 1) Азия, Европа, Америка.
 - 2) Европа, Азия, Африка
 - 3) Америка, Антарктида, Австралия
2. Найдите лишнее:
- 1) гранит
 - 2) кварц
 - 3) слюда
 - 4) полевой шпат
3. Какой пролив носит имя руководителя первого кругосветного путешествия?
- 1) Ф. Дрейка
 - 2) В. Беринга
 - 3) Ф. Магеллана
4. Укажите неверное утверждение:
- 1) Солнце в полдень в Северном полушарии находится на юге
 - 2) лишайники растут гуще с северной стороны ствола
 - 3) азимут отсчитывается от направления на юг против часовой стрелки
 - 4) прибор, с помощью которого можно ориентироваться, называется компас
5. Определите примерную высоту горы, если известно, что у ее подножия температура воздуха составила $+16^{\circ}\text{C}$, а на ее вершине -8°C :
- 1) 1,3 км
 - 2) 4 км
 - 3) 24 км
 - 4) 400 м
6. Какой слой присутствует в материковой земной коре, но отсутствует в океанической?
- 1) гранитный
 - 2) базальтовый
 - 3) осадочный
7. В горах Карпатах нет ледников потому, что:
- 1) горы молодые
 - 2) там теплый климат
 - 3) их высшая точка лежит ниже снеговой линии
8. Самая низкая температура воздуха, зафиксированная на земном шаре, составляет $-89,2^{\circ}\text{C}$. Выберите место, где это могло быть:
- 1) Оймякон (Россия)
 - 2) Северный полюс
 - 3) Антарктида (станция Восток)
 - 4) о. Гренландия

- 9. Каков численный масштаб плана, на котором расстояние от автобусной остановки до стадиона, составляющее 750 м, изображено отрезком длиной 3 см?
- 1) 1: 25
 - 2) 1: 250
 - 3) 1: 2500
 - 4) 1: 25 000
 - 5) 1: 250 000
- ^ 10. Угол наклона земной оси составляет:
- 1) 0°
 - 2) 33,5°
 - 3) 66,5°
 - 4) 90°
- 11. Определите правильно среднесуточную температуру воздуха по следующим данным:
В 6 ч. — 10° C;
В 12 ч. — 15° C;
В 18 ч. — 13° C;
В 20 ч. — 11° C:
- 1) 11° C
 - 2) 5° C
 - 3) 12,25° C
 - 4) 9,25° C
 - 5) 16,25° C
- 12. День 21 марта в Северном полушарии называют днем:
- 1) летнего солнцестояния
 - 2) весеннего солнцестояния
 - 3) осеннего равноденствия
 - 4) весеннего равноденствия
- ^ 13. Наука, изучающая географические названия:
- 1) геодезия;
 - 2) картография;
 - 3) топонимика;
 - 4) топография.
- ^ 14. Караван шел по азимуту 90°, но потом свернул на 45°. В направлении какой стороны горизонта стал двигаться караван?
- 1) С
 - 2) СВ
 - 3) ЮВ
 - 4) Ю
- ^ 15. Наибольшее видовое разнообразие наблюдается в царстве:
- 1) бактерий
 - 2) животных
 - 3) грибов
 - 4) растений

Аналитический тур

1. Определите недостающие данные в таблице прибором измерения. Заполните в бланке ответов пустые ячейки в таблице.

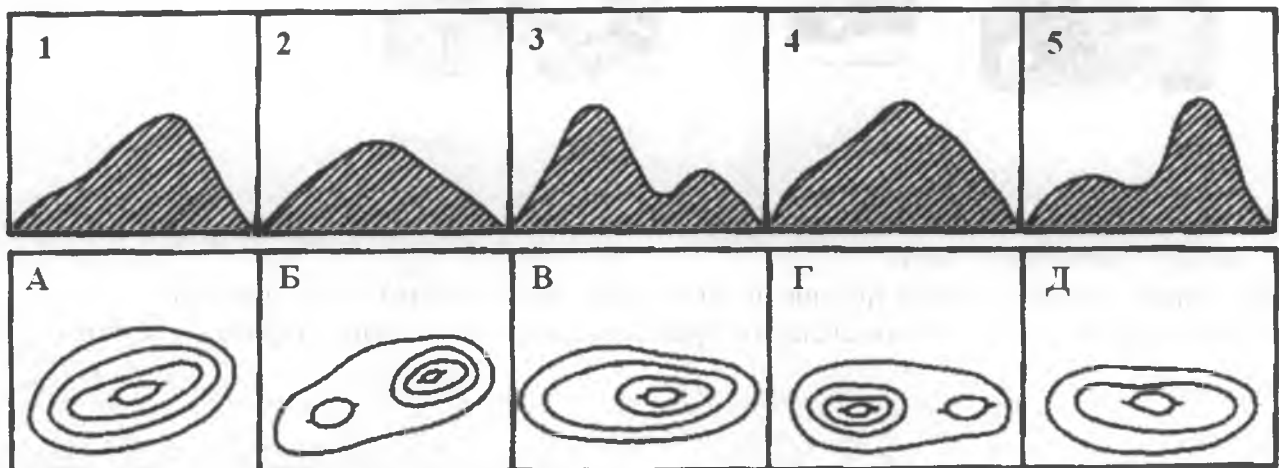
За ответ 0,5 балла (макс. - 5).

Прибор	Характеристика явления, измеряемая прибором	Единица измерения, которой характеризуются измеряемая прибором величина
		румб, метр в секунду
	атмосферное давление	
гигрометр		
осадкомер		
		градус

2. Какие части гидросферы нельзя увидеть на физической карте? (по 0,5 балла)

3. Определите и запишите в бланке ответов .какому изображению холма горизонталями соответствует вид холма.

За каждую пару 1 балл (макс. – 5 баллов).



1	2	3	4	5

4. Какие из ниже перечисленных географических объектов находятся на указанных материках? Запишите в бланке ответов их номера рядом с названием материка.

За каждый правильный ответ 0,5 баллов (макс. – 5 баллов).

Материки:

1. Австралия
2. Африка
3. Евразия
4. Северная Америка
5. Южная Америка

Географические объекты:


- 1) Великие равнины
- 2) Аппалачи
- 3) р. Парана
- 4) р. Амур
- 5) Аральское море
- 6) Большая пустыня Виктория
- 7) вдп. Анхель
- 8) р. Миссисипи
- 9) влк. Килиманджаро
- 10) пустыня Гоби

Материк	Австралия	Африка	Евразия	Северная Америка	Южная Америка
ОТВЕТ					

5. На приведенных рисунках вы видите изображения стран и рисунки, характеризующие эти страны.



--	--	--



--	--	--

В бланке ответов задания заполните таблицу:

- 1) Объект – название страны
- 2) Рисунок – номер рисунка, поясняющую подпись, что (или кто) на изображении
- 3) Пояснение – почему вы так сделали, образовав осмысленную пару «страна – рисунок»



--	--	--	--	--

Материк	Австралия	Африка	Евразия	Северная Америка	Южная Америка
ОТВЕТ	Б	З	В		

5. На приведенных рисунках вы видите изображения стран и рисунки, характеризующие эти страны.

А
Б
В

Аф.
Австр.
Север. Ам.

1
2
3

Б
В
А

В бланке ответов задания заполните таблицу:

- 1) Объект – название страны
- 2) Рисунок – номер рисунка, поясняющую подпись, что (или кто) на изображении
- 3) Пояснение – почему вы так сделали, образовав осмысленную пару «страна – рисунок»

--	--	--	--

Аналитический тур

1. Определите недостающие данные в таблице прибором измерения. Заполните в бланке ответов пустые ячейки в таблице.

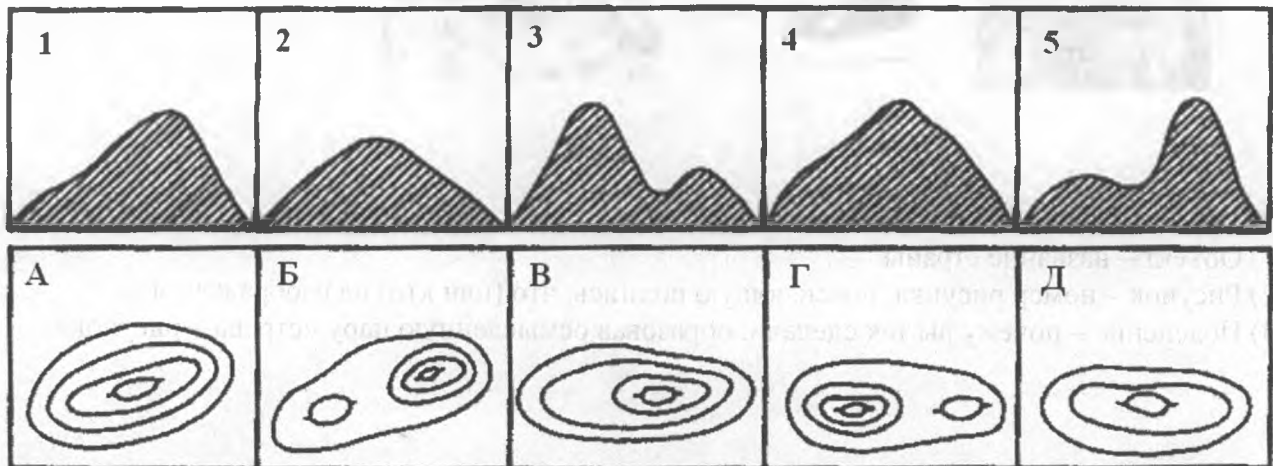
За ответ 0,5 балла (max. - 5).

Прибор	Характеристика явления, измеряемая прибором	Единица измерения, которой характеризуются измеряемая прибором величина
Флюгер	направление ветра	румб, метр в секунду
барометр	атмосферное давление	
гигрометр		
осадкомер	количество осадков +	мм
Термометр	температура?	градус

2. Какие части гидросферы нельзя увидеть на физической карте? (по 0,5 балла)

3. Определите и запишите в бланке ответов .какому изображению холма горизонталями соответствует вид холма.

За каждую пару 1 балл (max. - 5 баллов).



1	2	3	4	5
Б	А	Г	А	Б

4. Какие из ниже перечисленных географических объектов находятся на указанных материках? Запишите в бланке ответов их номера рядом с названием материка.

За каждый правильный ответ 0,5 баллов (max. - 5 баллов).

Материки:

1. Австралия
2. Африка
3. Евразия
4. Северная Америка
5. Южная Америка

Географические объекты:

- 1) Великие равнины
- 2) Аппалачи
- 3) р. Парана
- 4) р. Амур
- 5) Аральское море
- 6) Большая пустыня Виктория
- 7) вдп. Анхель
- 8) р. Миссисипи
- 9) влк. Килиманджаро
- 10) пустыня Гоби

9. Каков численный масштаб плана, на котором расстояние от автобусной остановки до стадиона, составляющее 750 м, изображено отрезком длиной 3 см?
- 1) 1: 25
 - 2) 1: 250
 - 3) 1: 2500
 - 4) 1: 25 000
 - 5) 1: 250 000
- 10. Угол наклона земной оси составляет:
- 1) 0°
 - 2) $33,5^\circ$
 - 3) $66,5^\circ$
 - 4) 90°
- 11. Определите правильно среднесуточную температуру воздуха по следующим данным:
В 6 ч. – 10°C ;
В 12 ч. – 15°C ;
В 18 ч. – 13°C ;
В 20 ч. – 11°C :
- 1) 11°C
 - 2) 5°C
 - 3) $12,25^\circ \text{C}$
 - 4) $9,25^\circ \text{C}$
 - 5) $16,25^\circ \text{C}$
- 12. День 21 марта в Северном полушарии называют днем:
- 1) летнего солнцестояния
 - 2) весеннего солнцестояния
 - 3) осеннего равноденствия
 - 4) весеннего равноденствия
13. Наука, изучающая географические названия:
- 1) геодезия;
 - 2) картография;
 - 3) топонимика;
 - 4) топография.
14. Караван шел по азимуту 90° , но потом свернул на 45° . В направлении какой стороны горизонта стал двигаться караван?
- 1) С
 - 2) СВ
 - 3) ЮВ
 - 4) Ю
- 15. Наибольшее видовое разнообразие наблюдается в царстве:
- 1) бактерий
 - 2) животных
 - 3) грибов
 - 4) растений

Олимпиада по географии
школьный этап 2024 – 2025 уч. год
Задания для 7 класса.

Тестовый тур.

Правильный ответ оценивается в 1 балл.

75

1. Какие части света знали во времена Птолемея (II в. н. э.)?
 - 1) Азия, Европа, Америка.
 - 2) Европа, Азия, Африка
 - 3) Америка, Антарктида, Австралия

2. Найдите лишнее:
 - 1) гранит
 - 2) кварц
 - 3) слюда
 - 4) полевой шпат

3. Какой пролив носит имя руководителя первого кругосветного путешествия?
 - 1) Ф. Дрейка
 - 2) В. Беринга
 - 3) Ф. Магеллана

4. Укажите неверное утверждение:
 - 1) Солнце в полдень в Северном полушарии находится на юге
 - 2) лишайники растут гуще с северной стороны ствола
 - 3) азимут отсчитывается от направления на юг против часовой стрелки
 - 4) прибор, с помощью которого можно ориентироваться, называется компас

5. Определите примерную высоту горы, если известно, что у ее подножия температура воздуха составила $+16^{\circ}\text{C}$, а на ее вершине -8°C :
 - 1) 1,3 км
 - 2) 4 км
 - 3) 24 км
 - 4) 400 м

6. Какой слой присутствует в материковой земной коре, но отсутствует в океанической?
 - 1) гранитный
 - 2) базальтовый
 - 3) осадочный

7. В горах Карпатах нет ледников потому, что:
 - 1) горы молодые
 - 2) там теплый климат
 - 3) их высшая точка лежит ниже снеговой линии

8. Самая низкая температура воздуха, зафиксированная на земном шаре, составляет $-89,2^{\circ}\text{C}$. Выберите место, где это могло быть:
 - 1) Оймякон (Россия)
 - 2) Северный полюс
 - 3) Антарктида (станция Восток)
 - 4) о. Гренландия

Аналитический тур

2.5 1. За ответ 0,5 балла. (маж. - 5 баллов)

ПРИБОР	ХАРАКТЕРИСТИКА ЯВЛЕНИЯ. (измеряемая прибором)	Единица измерения, которой характеризуются, измеряемая прибором величина
Флюгер	измеряет порывы воздуха	м/с, км/ч +
Барометр	измеряет давление	
Гигрометр		
Осадкомер	измеряет кол-во осадков +	мм +
Термометр	измеряет температуру воздуха +	°t (°C) +

2. Оценивается каждая правильная часть гидросферы (по 0,5 балла)

3. Определите и запишите в бланке ответов, какому изображению холма горизонталями соответствует вид холма.

За каждую пару 1 балл (маж. - 5 баллов).

1	2	3	4	5
B	A	Г.	Д	Б

4. Какие из ниже перечисленных географических объектов находятся на указанных материках?

Запишите в бланке ответов их номера рядом с названием материка.

За каждый правильный ответ 0,5 баллов (маж. - 5 баллов).

Материк	Австралия	Африка	Евразия	Северная Америка	Южная Америка
ОТВЕТ	7 5	6 10	(4) 2	8 3	9 1

5. На приведенных рисунках вы видите изображения стран и рисунки, характеризующие эти страны. В бланке ответов задания заполните таблицу:

- 1) Объект – название страны
- 2) Рисунок – номер рисунка, поясняющую подпись, что (или кто) на изображении
- 3) Пояснение – почему вы так сделали, образовав осмысленную пару «страна – рисунок»

ОБЪЕКТ 2	РИСУНОК 3	ПОЯСНЕНИЕ 3
Африка	3, кофейные зерна	Африка – родина кофе.
Австралия	1, коала	В Австралии живут коалы
Евразия	2, коньки	В Евразии играют в хоккей

Г46010

ВСЕРОССИЙСКАЯ ОЛИМПИАДА ШКОЛЬНИКОВ ПО ГЕОГРАФИИ
В 2024 – 2025 УЧЕБНОМ ГОДУ
ШКОЛЬНЫЙ ЭТАП
7 КЛАСС
БЛАНК ОТВЕТОВ

20,50. 50,66

Фамилия _____

Имя _____

Ответы заданий для 7 класса.

Тестовый тур.

За каждый правильный ответ – 1 балл.

Максимальный балл – 15.

№ теста	Ответ	Баллы
1	2	1
2	1	1
3	3	1
4	3	1
5	1	0
6	1	1
7	2	0
8	3	0
9	3	1
10	4	0
11	1	0
12	2	0
13	3	1
14	2	1
15	4	0

ВСЕРОССИЙСКАЯ ОЛИМПИАДА ШКОЛЬНИКОВ

Задания: ГЕОГРАФИЯ 2024-2025 уч.г.

ШКОЛЬНЫЙ ЭТАП. 5 КЛАСС

Максимальный балл за работу — 24.

Тестовый тур

200.88%

Выберите правильный ответ. За каждый верный ответ – 1 балл.

1. Если встать лицом на север, то по правую руку у нас будет:

- а) запад
- б) восток
- в) юг
- г) север

2. Что не является планетой?

- а) Сатурн
- б) Меркурий
- в) Солнце
- г) Земля

3. Что означает в переводе слово «география»?

- а) изучение Земли
- б) описание Земли
- в) использование Земли
- г) преобразование Земли

2 4. Допиши предложение:

Великий путешественник Фернан Магеллан, совершив кругосветную экспедицию, доказал что Земля имеет круглую форму

1 5. Какие вещества входят в состав воздуха?

- а) водород, углекислый газ, кислород
- б) кислород, азот, углекислый газ
- в) фтор, углекислый газ, кислород

1 6. Смена дня и ночи на Земле объясняется?

- а) движением Земли вокруг своей оси
- б) движением Земли вокруг Солнца
- в) суточной ритмикой географической оболочки

г) изменением наклона земной оси к плоскости орбиты

1 7. Что такое карта полушарий?

- а) карта, на которой дано изображение какой-то территории
- б) карта, на которой изображены две половинки земного шара
- в) карта, на которой изображена Земля

1 8. Назовите самый большой материк на Земле.

- а) Африка
- б) Антарктида
- в) Евразия
- г) Австралия

1 9. Воздух на Земле образует оболочку, получившую название:

- а) биосфера
- б) литосфера
- в) атмосфера
- г) гидросфера

— 10. Каким понятием объединяются эти слова:

Европа, Азия, Америка, Антарктида, Африка, Австралия.

Ответ: Материки

Аналитический тур

5 11. Отгадай географические загадки.

1. Самый верхний слой земельный.

В нём растут трава, деревья,
Плодородием обладает, как её все называют?

Ответ: почва

2. Не снег и не лёд, а серебром деревья уберёт.

Ответ: иней

3. Рядом, рядом острова,

Не один да и не два, а десятки, сотни.

Жить в соседстве им охотней.

Все родные, как-никак. Значит, здесь....

Ответ: Материки Арктики

4. От дождей, текущих вод он растёт из года в год.

Он полей равнинных враг. Как зовут его?

Ответ: ~~Солончак~~ ~~Овраг~~ Овраг

5. Смотри: они все длинные-предлинные

И словно режут шар земной

На дольки апельсиновые.


Ответ: Континенты Меридианы

2 12. Подбери общий материк для следующих организмов:

утконос, ехидна, кенгуру, дикая собака Динго, райские птицы.

Ответ: Австралия

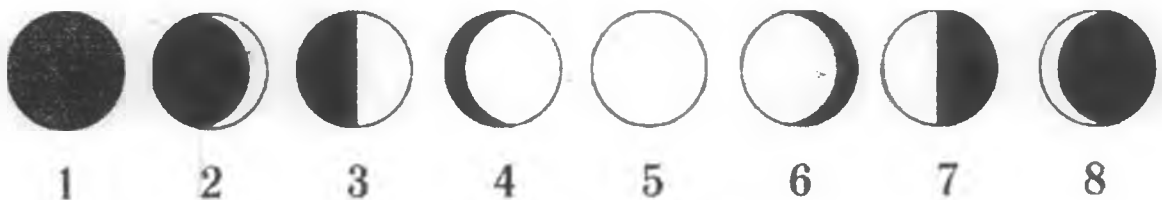
2 13. Отгадай географические ребусы?



Ответ: Наблюдение
Австралия

Ответ: Экватор

1 14. Под какими номерами изображены на рисунке полнолуние и новолуние? Как определить, находясь в северном полушарии, какой месяц стареющий?



Ответ: 1 - полнолуние, 5 - полнолуние, 1/8 - стареющий месяц, 1/5 - полнолуние, 1/2 - новолуние

Г 46 015

ВСЕРОССИЙСКАЯ ОЛИМПИАДА ШКОЛЬНИКОВ

Задания: ГЕОГРАФИЯ 2024-2025 уч.г.

ШКОЛЬНЫЙ ЭТАП. 5 КЛАСС

Максимальный балл за работу — 24.

Тестовый тур

205 88%

Выберите правильный ответ. За каждый верный ответ — 1 балл.

1. Если встать лицом на север, то по правую руку у нас будет:

- а) запад
- б) восток
- в) юг
- г) север

2. Что не является планетой?

- а) Сатурн
- б) Меркурий
- в) Солнце
- г) Земля

3. Что означает в переводе слово «география»?

- а) изучение Земли
- б) описание Земли
- в) использование Земли
- г) преобразование Земли

4. Допиши предложение:

Великий путешественник Фернан Магеллан, совершив кругосветную экспедицию, доказал что Земля круглая

Земля
круглая

5. Какие вещества входят в состав воздуха?

- а) водород, углекислый газ, кислород
- б) кислород, азот, углекислый газ
- в) фтор, углекислый газ, кислород

6. Смена дня и ночи на Земле объясняется?

- а) движением Земли вокруг своей оси
- б) движением Земли вокруг Солнца
- в) суточной ритмикой географической оболочки

г) изменением наклона земной оси к плоскости орбиты

1 7. Что такое карта полушарий?

- а) карта, на которой дано изображение какой-то территории
- б) карта, на которой изображены две половинки земного шара
- в) карта, на которой изображена Земля

1 8. Назовите самый большой материк на Земле.

- а) Африка
- б) Антарктида
- в) Евразия
- г) Австралия

1 9. Воздух на Земле образует оболочку, получившую название:

- а) биосфера
- б) литосфера
- в) атмосфера
- г) гидросфера

— 10. Каким понятием объединяются эти слова:

Европа, Азия, Америка, Антарктида, Африка, Австралия.

Ответ: материк

Аналитический тур

5 11. Отгадай географические загадки.

1. Самый верхний слой земельный.

В нём растут трава, деревья,
Плодородием обладает, как её все называют?

Ответ: гольца

2. Не снег и не лёд, а серебром деревья уберёт.

Ответ: ицей

3. Рядом, рядом острова,

Не один да и не два, а десятки, сотни.

Жить в соседстве им охотней.

Все родные, как-никак. Значит, здесь....

Ответ: архипелаг

4. От дождей, текущих вод он растёт из года в год.
Он полей равнинных враг. Как зовут его?

Ответ: Овраг


5. Смотри: они все длинные-предлинные
И словно режут шар земной
На дольки апельсиновые.

Ответ: ~~Финилены~~ реки меридианы

2 12. Подбери общий материк для следующих организмов:
утконос, ехидна, кенгуру, дикая собака Динго, райские птицы.

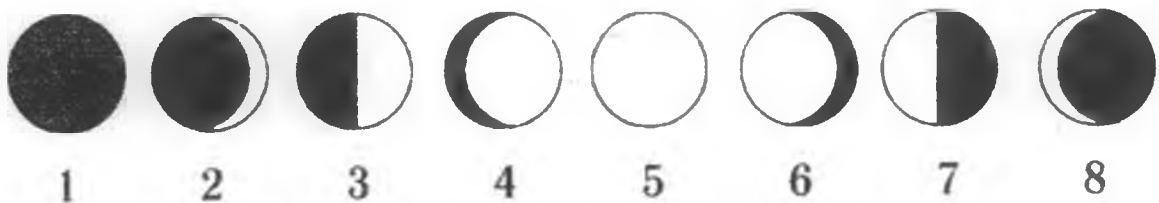
Ответ: Африка Австралия

2 13. Отгадай географические ребусы?



Ответ: топ наблюдение Ответ: ~~Эква~~ Экватор

1 14. Под какими номерами изображены на рисунке полнолуние и новолуние? Как определить, находясь в северном полушарии, какой месяц стареющий?



Ответ: 1 - новолуние, 5 - полнолуние, 6 - стареющий месяц.

ВСЕРОССИЙСКАЯ ОЛИМПИАДА ШКОЛЬНИКОВ

Задания: ГЕОГРАФИЯ 2024-2025 уч.г.

ШКОЛЬНЫЙ ЭТАП. 5 КЛАСС

Максимальный балл за работу — 24.

Тестовый тур

195 49%

Выберите правильный ответ. За каждый верный ответ – 1 балл.

1. Если встать лицом на север, то по правую руку у нас будет:
- а) запад
 - б) восток
 - в) юг
 - г) север
2. Что не является планетой?
- а) Сатурн
 - б) Меркурий
 - в) Солнце
 - г) Земля
3. Что означает в переводе слово «география»?
- а) изучение Земли
 - б) описание Земли
 - в) использование Земли
 - г) преобразование Земли
4. Допиши предложение:
Великий путешественник Фернан Магеллан, совершив кругосветную экспедицию, доказал что Земля имеет форму шара
5. Какие вещества входят в состав воздуха?
- а) водород, углекислый газ, кислород
 - б) кислород, азот, углекислый газ
 - в) фтор, углекислый газ, кислород
6. Смена дня и ночи на Земле объясняется?
- а) движением Земли вокруг своей оси
 - б) движением Земли вокруг Солнца
 - в) суточной ритмикой географической оболочки

г) изменением наклона земной оси к плоскости орбиты

17. Что такое карта полушарий?

- а) карта, на которой дано изображение какой-то территории
- б) карта, на которой изображены две половинки земного шара
- в) карта, на которой изображена Земля

18. Назовите самый большой материк на Земле.

- а) Африка
- б) Антарктида
- в) Евразия
- г) Австралия

19. Воздух на Земле образует оболочку, получившую название:

- а) биосфера
- б) литосфера
- в) атмосфера
- г) гидросфера

10. Каким понятием объединяются эти слова:

Европа, Азия, Америка, Антарктида, Африка, Австралия.

Ответ: континенты

Аналитический тур

11. Отгадай географические загадки.

1. Самый верхний слой земельный.

В нём растут трава, деревья,
Плодородием обладает, как её все называют?

Ответ: почва

2. Не снег и не лёд, а серебром деревья уберёт.

Ответ: иней

3. Рядом, рядом острова,

Не один да и не два, а десятки, сотни.

Жить в соседстве им охотней.

Все родные, как-никак. Значит, здесь....

Ответ: отряды архипелаг

4. От дождей, текущих вод он растёт из года в год.

Он полей равнинных враг. Как зовут его?

Ответ: звраз

5. Смотри: они все длинные-предлинные

И словно режут шар земной

На дольки апельсиновые.


Ответ: поперечные реки

2 12. Подбери общий материк для следующих организмов:

утконос, ехидна, кенгуру, дикая собака Динго, райские птицы.

Ответ: Австралия

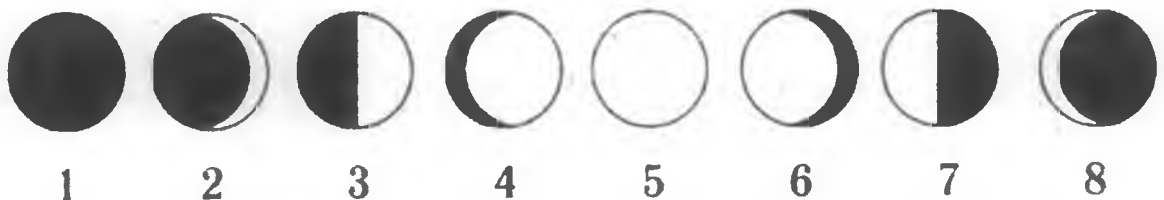
2 13. Отгадай географические ребусы?



НАБЛЮДЕНИЕ
Ответ: АЛЮБАЮ РАДИЦЫ

ЭКВАТОР

1 14. Под какими номерами изображены на рисунке полнолуние и новолуние? Как определить, находясь в северном полушарии, какой месяц стареющий?



Ответ: 5, 4 5, 8. Стареющий месяц 6

Г 46 0/2

ВСЕРОССИЙСКАЯ ОЛИМПИАДА ШКОЛЬНИКОВ

Задания: ГЕОГРАФИЯ 2024-2025 уч.г.

ШКОЛЬНЫЙ ЭТАП. 5 КЛАСС

Максимальный балл за работу — 24.

Тестовый тур

188 45%

Выберите правильный ответ. За каждый верный ответ – 1 балл.

1. Если встать лицом на север, то по правую руку у нас будет:
 - а) запад
 - б) восток
 - в) юг
 - г) север

2. Что не является планетой?
 - а) Сатурн
 - б) Меркурий
 - в) Солнце
 - г) Земля

3. Что означает в переводе слово «география»?
 - а) изучение Земли
 - б) описание Земли
 - в) использование Земли
 - г) преобразование Земли

4. Допиши предложение:
Великий путешественник Фернан Магеллан, совершив кругосветную экспедицию, доказал что Земля круглая

5. Какие вещества входят в состав воздуха?
 - а) водород, углекислый газ, кислород
 - б) кислород, азот, углекислый газ
 - в) фтор, углекислый газ, кислород

6. Смена дня и ночи на Земле объясняется?
 - а) движением Земли вокруг своей оси
 - б) движением Земли вокруг Солнца
 - в) суточной ритмикой географической оболочки

г) изменением наклона земной оси к плоскости орбиты

1 7. Что такое карта полушарий?

- а) карта, на которой дано изображение какой-то территории
- б) карта, на которой изображены две половинки земного шара
- в) карта, на которой изображена Земля

1 8. Назовите самый большой материк на Земле.

- а) Африка
- б) Антарктида
- в) Евразия
- г) Австралия

1 9. Воздух на Земле образует оболочку, получившую название:

- а) биосфера
- б) литосфера
- в) атмосфера
- г) гидросфера

— 10. Каким понятием объединяются эти слова:

Европа, Азия, Америка, Антарктида, Африка, Австралия.

Ответ: Материки

Аналитический тур

4 11. Отгадай географические загадки.

1. Самый верхний слой земельный.

В нём растут трава, деревья,

Плодородием обладает, как её все называют?

Ответ: Почва

2. Не снег и не лёд, а серебром деревья уберёт.

Ответ: Иней

3. Рядом, рядом острова,

Не один да и не два, а десятки, сотни.

Жить в соседстве им охотней.

Все родные, как-никак. Значит, здесь....

Ответ: архипелаг

4. От дождей, текущих вод он растёт из года в год.
Он полей равнинных враг. Как зовут его?

Ответ: овсян


5. Смотри: они все длинные-предлинные
И словно режут шар земной
На дольки апельсиновые.

Ответ: река

2 12. Подбери общий материк для следующих организмов:
утконос, ехидна, кенгуру, дикая собака Динго, райские птицы.

Ответ: Австралия

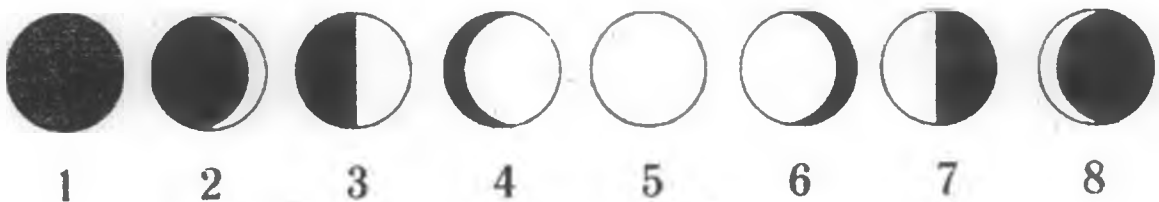
2 13. Отгадай географические ребусы?



Ответ: Наблюдение

Ответ: Жвачка

14. Под какими номерами изображены на рисунке полнолуние и новолуние? Как определить, находясь в северном полушарии, какой месяц стареющий?



Ответ: Новолуние, полнолуние
старейший месяц

Г 45 008

ВСЕРОССИЙСКАЯ ОЛИМПИАДА ШКОЛЬНИКОВ

Задания: ГЕОГРАФИЯ 2024-2025 уч.г.

ШКОЛЬНЫЙ ЭТАП. 5 КЛАСС

Максимальный балл за работу — 24.

Тестовый тур

188 75%

Выберите правильный ответ. За каждый верный ответ – 1 балл.

+ 1. Если встать лицом на север, то по правую руку у нас будет:

- а) запад
- б) восток
- в) юг
- г) север

+ 2. Что не является планетой?

- а) Сатурн
- б) Меркурий
- в) Солнце
- г) Земля

3. Что означает в переводе слово «география»?

- а) изучение Земли
- б) описание Земли
- в) использование Земли
- г) преобразование Земли

2 + 4. Допиши предложение:

Великий путешественник Фернан Магеллан, совершив кругосветную экспедицию, доказал что земля круглая

+ 5. Какие вещества входят в состав воздуха?

- а) водород, углекислый газ, кислород
- б) кислород, азот, углекислый газ
- в) фтор, углекислый газ, кислород

+ 6. Смена дня и ночи на Земле объясняется?

- а) движением Земли вокруг своей оси
- б) движением Земли вокруг Солнца
- в) суточной ритмичкой географической оболочки

г) изменением наклона земной оси к плоскости орбиты

+ 7. Что такое карта полушарий?

- а) карта, на которой дано изображение какой-то территории
- б) карта, на которой изображены две половинки земного шара
- в) карта, на которой изображена Земля

+ 8. Назовите самый большой материк на Земле.

- а) Африка
- б) Антарктида
- в) Евразия
- г) Австралия

+ 9. Воздух на Земле образует оболочку, получившую название:

- а) биосфера
- б) литосфера
- в) атмосфера
- г) гидросфера

10. Каким понятием объединяются эти слова:

Европа, Азия, Америка, Антарктида, Африка, Австралия.

Ответ: диаметрики

Аналитический тур

5+ 11. Отгадай географические загадки.

1. Самый верхний слой земельный.

В нём растут трава, деревья,
Плодородием обладает, как её все называют?

Ответ: почва

+ 2. Не снег и не лёд, а серебром деревья уберёт.

Ответ: иней

+ 3. Рядом, рядом острова,

Не один да и не два, а десятки, сотни.

Жить в соседстве им охотней.

Все родные, как-никак. Значит, здесь....

Ответ: архипелаг

4. От дождей, текущих вод он растёт из года в год.
Он полей равнинных враг. Как зовут его?

Ответ: овраг


5. Смотри: они все длинные-предлинные
И словно режут шар земной
На дольки апельсиновые.

Ответ: канавы реки

12. Подбери общий материк для следующих организмов:
утконос, ехидна, кенгуру, дикая собака Динго, райские птицы.

Ответ: Австралия

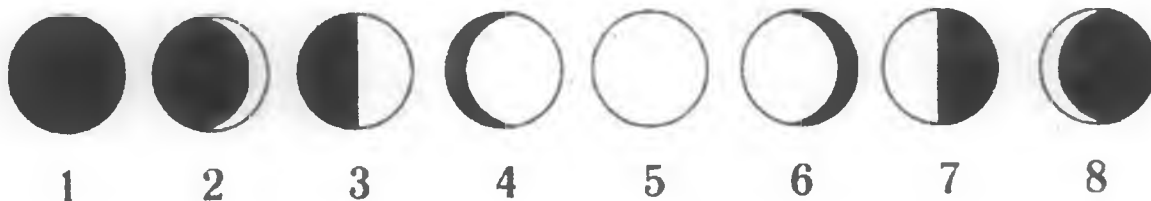
13. Отгадай географические ребусы?



Ответ: наблюдение

Ответ: эватор

14. Под какими номерами изображены на рисунке полнолуние и новолуние? Как определить, находясь в северном полушарии, какой месяц стареющий?



Ответ: полнолуние - 5, новолуние - 1, месяц стареющий - 6.

Г 46 0013

ВСЕРОССИЙСКАЯ ОЛИМПИАДА ШКОЛЬНИКОВ

Задания: ГЕОГРАФИЯ 2024-2025 уч.г.

ШКОЛЬНЫЙ ЭТАП. 5 КЛАСС

Максимальный балл за работу — 24.

Тестовый тур

18.5 45%

Выберите правильный ответ. За каждый верный ответ – 1 балл.

1. Если встать лицом на север, то по правую руку у нас будет:

- а) запад
- б) восток
- в) юг
- г) север

2. Что не является планетой?

- а) Сатурн
- б) Меркурий
- в) Солнце
- г) Земля

3. Что означает в переводе слово «география»?

- а) изучение Земли
- б) описание Земли
- в) использование Земли
- г) преобразование Земли

4. Допиши предложение:

Великий путешественник Фернан Магеллан, совершив кругосветную экспедицию, доказал что земля круглая.

5. Какие вещества входят в состав воздуха?

- а) водород, углекислый газ, кислород
- б) кислород, азот, углекислый газ
- в) фтор, углекислый газ, кислород

6. Смена дня и ночи на Земле объясняется?

- а) движением Земли вокруг своей оси
- б) движением Земли вокруг Солнца
- в) суточной ритмикой географической оболочки

г) изменением наклона земной оси к плоскости орбиты

1 7. Что такое карта полушарий?

- а) карта, на которой дано изображение какой-то территории
- б) карта, на которой изображены две половинки земного шара
- в) карта, на которой изображена Земля

1 8. Назовите самый большой материк на Земле.

- а) Африка
- б) Антарктида
- в) Евразия
- г) Австралия

1 9. Воздух на Земле образует оболочку, получившую название:

- а) биосфера
- б) литосфера
- в) атмосфера
- г) гидросфера

10. Каким понятием объединяются эти слова:

Европа, Азия, Америка, Антарктида, Африка, Австралия.

Ответ: Материки

Аналитический тур

4 11. Отгадай географические загадки.

1. Самый верхний слой земельный.

В нём растут трава, деревья,
Плодородием обладает, как её все называют?

Ответ: почва

2. Не снег и не лёд, а серебром деревья уберёт.

Ответ: иней

3. Рядом, рядом острова,

Не один да и не два, а десятки, сотни.

Жить в соседстве им охотней.

Все родные, как-никак. Значит, здесь....

Ответ: архипелаг

4. От дождей, текущих вод он растёт из года в год.
Он полей равнинных враг. Как зовут его?

Ответ: квас


5. Смотри: они все длинные-предлинные
И словно режут шар земной
На дольки апельсиновые.

Ответ: реки, горы

2 12. Подбери общий материк для следующих организмов:
утконос, ехидна, кенгуру, дикая собака Динго, райские птицы.

Ответ: Австралия

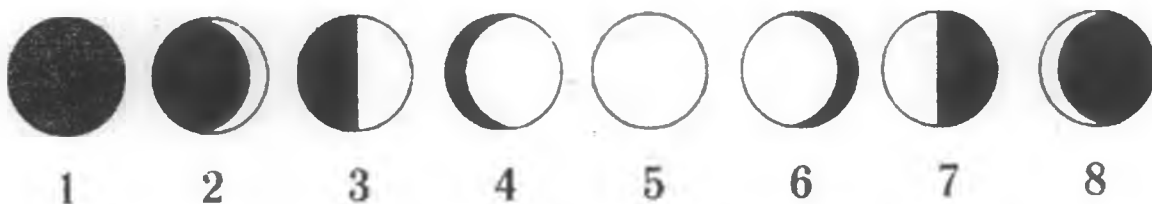
2 13. Отгадай географические ребусы?



Ответ: наблюдение

Ответ: экватор

1 14. Под какими номерами изображены на рисунке полнолуние и новолуние? Как определить, находясь в северном полушарии, какой месяц стареющий?



Ответ: новолуние: 2, полнолуние - 5, стареющий - 6.
